

令和3年度 問題

次の注意事項をよく読んでから、始めてください。

(注意事項)

1 問題

問題は、1ページから25ページまでの50問です。

試験開始の合図と同時に、ページ数を確認してください。

乱丁や落丁があった場合は、直ちに試験監督員に申し出てください。

2 解答

解答は、解答用紙の「記入上の注意」に従って記入してください。

正解は、各問題とも一つだけです。

二つ以上の解答をしたもの及び判読が困難なものは、正解としません。

3 適用法令


問題の中の法令に関する部分は、令和3年4月1日現在施行されている規定に基づいて出題されています。

【問1】 次の1から4までの記述のうち、民法の規定、判例及び下記判決文によれば、正しいものはどれか。

(判決文)

賃貸人は、特別の約定のないかぎり、賃借人から家屋明渡を受けた後に前記の敷金残額を返還すれば足りるものと解すべく、したがって、家屋明渡債務と敷金返還債務とは同時履行の関係にたつものではないと解するのが相当であり、このことは賃貸借の終了原因が解除(解約)による場合であつても異なるところはないと解すべきである。

- 1 賃借人の家屋明渡債務が賃貸人の敷金返還債務に対し先履行の関係に立つと解すべき場合、賃借人は賃貸人に対し敷金返還請求権をもって家屋につき留置権を取得する余地はない。
- 2 賃貸借の終了に伴う賃借人の家屋明渡債務と賃貸人の敷金返還債務とは、1個の双務契約によって生じた対価的債務の関係にあるものといえる。
- 3 賃貸借における敷金は、賃貸借の終了時点までに生じた債権を担保するものであって、賃貸人は、賃貸借終了後賃借人の家屋の明渡しまでに生じた債権を敷金から控除することはできない。
- 4 賃貸借の終了に伴う賃借人の家屋明渡債務と賃貸人の敷金返還債務の間に同時履行の関係を肯定することは、家屋の明渡しまでに賃貸人が取得する一切の債権を担保することを目的とする敷金の性質にも適合する。



1

同時履行の関係がたつない

* 解除によるものではない

【問 2】 債務者A、B、Cの3名が、令和3年7月1日に、内部的な負担部分の割合は等しいものとして合意した上で、債権者Dに対して300万円の連帯債務を負った場合に関する次の記述のうち、民法の規定によれば、誤っているものはどれか。

- 1 DがAに対して裁判上の請求を行ったとしても、特段の合意がなければ、BとCがDに対して負う債務の消滅時効の完成には影響しない。
- 2 BがDに対して300万円の債権を有している場合、Bが相殺を援用しない間に300万円の支払の請求を受けたCは、BのDに対する債権で相殺する旨の意思表示をすることができる。
- 3 DがCに対して債務を免除した場合でも、特段の合意がなければ、DはAに対してもBに対しても、弁済期が到来した300万円全額の支払を請求することができる。
- 4 AとDとの間に更改があったときは、300万円の債権は、全ての連帯債務者の利益のために消滅する。

債権者 D
 債務 A B C
 均しい 3
 4 他が債権者の債務も消滅

【問 3】 個人として事業を営むAが死亡した場合に関する次の記述のうち、民法の規定によれば、誤っているものはいくつあるか。なお、いずれの契約も令和3年7月1日付けで締結されたものとする。

- ア AがBとの間でB所有建物の清掃に関する準委任契約を締結していた場合、Aの相続人は、Bとの間で特段の合意をしなくても、当該準委任契約に基づく清掃業務を行う義務を負う。
- イ AがA所有の建物について賃借人Cとの間で賃貸借契約を締結している期間中にAが死亡した場合、Aの相続人は、Cに賃貸借契約を継続するか否かを相当の期間を定めて催告し、期間内に返答がなければ賃貸借契約をAの死亡を理由に解除することができる。
- ウ AがA所有の土地について買主Dとの間で売買契約を締結し、当該土地の引渡しと残代金決済の前にAが死亡した場合、当該売買契約は原始的に履行が不能となって無効となる。
- エ AがE所有の建物について貸主Eとの間で使用貸借契約を締結していた場合、Aの相続人は、Eとの間で特段の合意をしなくても、当該使用貸借契約の借主の地位を相続して当該建物を使用することができる。

- 1 一つ
- 2 二つ
- 3 三つ
- 4 四つ

取元 A
 使用貸借
 貸主 E
 3

x2

【問 4】 被相続人Aの配偶者Bが、A所有の建物に相続開始の時に居住していたため、遺産分割協議によって配偶者居住権を取得した場合に関する次の記述のうち、民法の規定によれば、正しいものはどれか。

- 1 遺産分割協議でBの配偶者居住権の存続期間を20年と定めた場合、存続期間が満了した時点で配偶者居住権は消滅し、配偶者居住権の延長や更新はできない。
- 2 Bは、配偶者居住権の存続期間内であれば、居住している建物の所有者の承諾を得ることなく、第三者に当該建物を賃貸することができる。
- 3 配偶者居住権の存続期間中にBが死亡した場合、Bの相続人CはBの有していた配偶者居住権を相続する。
- 4 Bが配偶者居住権に基づいて居住している建物が第三者Dに売却された場合、Bは、配偶者居住権の登記がなくてもDに対抗することができる。

4


【問 5】 次の記述のうち、民法の規定及び判例によれば、正しいものはどれか。

- 1 令和3年4月1日において18歳の者は成年であるので、その時点で、携帯電話サービスの契約や不動産の賃貸借契約を1人で締結することができる。
- 2 養育費は、子供が未成熟であって経済的に自立することを期待することができない期間を対象として支払われるものであるから、子供が成年に達したときは、当然に養育費の支払義務が終了する。
- 3 営業を許された未成年者が、その営業に関するか否かにかかわらず、第三者から法定代理人の同意なく負担付贈与を受けた場合には、法定代理人は当該行為を取り消すことができない。
- 4 意思能力を有しないときに行った不動産の売買契約は、後見開始の審判を受けているか否かにかかわらず効力を有しない。

4

×, 2
【問 6】 売買代金債権(以下この間において「債権」という。)の譲渡(令和3年7月1日に譲渡契約が行われたもの)に関する次の記述のうち、民法の規定によれば、誤っているものはどれか。

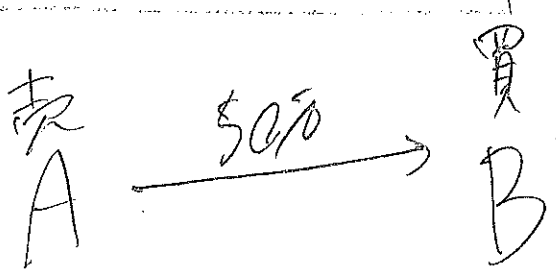
- 1 譲渡制限の意思表示がされた債権が譲渡された場合、当該債権譲渡の効力は妨げられないが、債務者は、その債権の全額に相当する金銭を供託することができる。
- 2 債権が譲渡された場合、その意思表示の時に債権が現に発生していないときは、譲受人は、その後発生した債権を取得できない。
- 3 譲渡制限の意思表示がされた債権の譲受人が、その意思表示がされていたことを知っていたときは、債務者は、その債務の履行を拒むことができ、かつ、譲渡人に対する弁済その他の債務を消滅させる事由をもって譲受人に対抗することができる。
- 4 債権の譲渡は、譲渡人が債務者に通知し、又は債務者が承諾をしなければ、債務者その他の第三者に対抗することができず、その譲渡の通知又は承諾は、確定日付のある証書によつてしなければ、債務者以外の第三者に対抗することができない。



4

○
【問 7】 Aを売主、Bを買主として、A所有の甲自動車を50万円で売却する契約(以下この間において「本件契約」という。)が令和3年7月1日に締結された場合に関する次の記述のうち、民法の規定によれば、誤っているものはどれか。

- 1 Bが甲自動車の引渡しを受けたが、甲自動車のエンジンに契約の内容に適合しない欠陥があることが判明した場合、BはAに対して、甲自動車の修理を請求することができる。
- 2 Bが甲自動車の引渡しを受けたが、甲自動車に契約の内容に適合しない修理不能な損傷があることが判明した場合、BはAに対して、売買代金の減額を請求することができる。
- 3 Bが引渡しを受けた甲自動車が故障を起こしたときは、修理が可能か否かにかかわらず、BはAに対して、修理を請求することなく、本件契約の解除をすることができる。
- 4 甲自動車について、第三者CがA所有ではなくC所有の自動車であると主張しており、Bが所有権を取得できないおそれがある場合、Aが相当の担保を供したときを除き、BはAに対して、売買代金の支払を拒絶することができる。



3



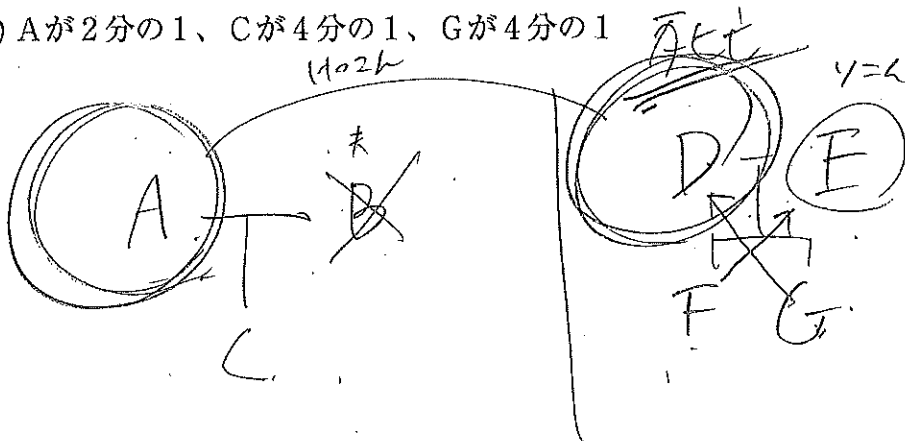
【問 8】 Aが1人で居住する甲建物の保存に瑕疵があったため、令和3年7月1日に甲建物の壁が崩れて通行人Bがケガをした場合（以下この問において「本件事故」という。）における次の記述のうち、民法の規定によれば、誤っているものはどれか。

- 1 Aが甲建物をCから賃借している場合、Aは甲建物の保存の瑕疵による損害の発生防止に必要な注意をしなかったとしても、Bに対して不法行為責任を負わない。
- 2 Aが甲建物を所有している場合、Aは甲建物の保存の瑕疵による損害の発生防止に必要な注意をしたとしても、Bに対して不法行為責任を負う。
- 3 本件事故について、AのBに対する不法行為責任が成立する場合、BのAに対する損害賠償請求権は、B又はBの法定代理人が損害又は加害者を知らないときでも、本件事故の時から20年間行使しないときには時効により消滅する。
- 4 本件事故について、AのBに対する不法行為責任が成立する場合、BのAに対する損害賠償請求権は、B又はBの法定代理人が損害及び加害者を知った時から5年間行使しないときには時効により消滅する。

不法行為

【問 9】 Aには死亡した夫Bとの間に子Cがあり、Dには離婚した前妻Eとの間に子F及び子Gがいる。Fの親権はEが有し、Gの親権はDが有している。AとDが婚姻した後にDが令和3年7月1日に死亡した場合における法定相続分として、民法の規定によれば、正しいものはどれか。

- 1 Aが2分の1、Fが4分の1、Gが4分の1
- 2 Aが2分の1、Cが6分の1、Fが6分の1、Gが6分の1
- 3 Aが2分の1、Gが2分の1
- 4 Aが2分の1、Cが4分の1、Gが4分の1




4

後回し

甲 乙
A B

【問 10】 AとBとの間で、Aを売主、Bを買主とする、等価値の美術品甲又は乙のいずれか選択によって定められる美術品の売買契約（以下この間において「本件契約」という。）が令和3年7月1日に締結された場合に関する次の記述のうち、民法の規定によれば、正しいものはどれか。

- 1 本件契約において、給付の目的を甲にするか乙にするかについて、第三者Cを選択権者とする合意がなされた場合、Cが選択をすることができないときは、選択権はBに移転する。
- 2 本件契約において、給付の目的を甲にするか乙にするかについて、Aを選択権者とする合意がなされた後に、Aの失火により甲が全焼したときは、給付の目的物は乙となる。
- 3 本件契約において、給付の目的を甲にするか乙にするかについての選択権に関する特段の合意がない場合、Bが選択権者となる。
- 4 本件契約において、給付の目的を甲にするか乙にするかについて、第三者Dを選択権者とする合意がなされた場合、Dが選択権を行使するときは、AとBの両者に対して意思表示をしなければならない。



【問 11】 Aは、所有している甲土地につき、Bとの間で建物所有を目的とする賃貸借契約（以下この間において「借地契約」という。）を締結する予定であるが、期間が満了した時点で、確実に借地契約が終了するようにしたい。この場合に関する次の記述のうち、借地借家法の規定によれば、誤っているものはどれか。

定期借地

- 1 事業の用に供する建物を所有する目的とし、期間を60年と定める場合には、契約の更新や建物の築造による存続期間の延長がない旨を書面で合意すれば、公正証書で合意しなくても、その旨を借地契約に定めることができる。
- 2 居住の用に供する建物を所有することを目的とする場合には、公正証書によって借地契約を締結するときであっても、期間を20年とし契約の更新や建物の築造による存続期間の延長がない旨を借地契約に定めることはできない。
- 3 居住の用に供する建物を所有することを目的とする場合には、借地契約を書面で行えば、借地権を消滅させるため、借地権の設定から20年が経過した日に甲土地上の建物の所有権を相当の対価でBからAに移転する旨の特約を有効に定めることができる。
- 4 借地契約がBの臨時設備の設置その他一時使用のためになされることが明らかである場合には、期間を5年と定め、契約の更新や建物の築造による存続期間の延長がない旨を借地契約に定めることができる。

借地借家

3 30年

貸借人
A

借借人
B

Y 2

【問 12】 Aを貸借人、Bを借借人とする甲建物の賃貸借契約（以下この間において「本件契約」という。）が令和3年7月1日に締結された場合に関する次の記述のうち、民法及び借地借家法の規定並びに判例によれば、正しいものはどれか。

- 1 本件契約について期間の定めをしなかった場合、AはBに対して、いつでも解約の申入れをすることができ、本件契約は、解約の申入れの日から3月を経過することによって終了する。
- 2 甲建物がBに引き渡された後、甲建物の所有権がAからCに移転した場合、本件契約の敷金は、他に特段の合意がない限り、BのAに対する未払賃料債務に充当され、残額がCに承継される。
- 3 甲建物が適法にBからDに転貸されている場合、AがDに対して本件契約が期間満了によって終了する旨の通知をしたときは、建物の転貸借は、その通知がされた日から3月を経過することによって終了する。
- 4 本件契約が借地借家法第38条の定期建物賃貸借契約で、期間を5年、契約の更新がない旨を定めた場合、Aは、期間満了の1年前から6月前までの間に、Bに対し賃貸借が終了する旨の通知をしなければ、従前の契約と同一条件で契約を更新したものとみなされる。

4

【問 13】 建物の区分所有等に関する法律（以下この間において「法」という。）に関する次の記述のうち、誤っているものはどれか。

- 1 法又は規約により集会において決議をすべき場合において、区分所有者が1人でも反対するときは、集会を開催せずに書面によって決議をすることはできない。
- 2 形状又は効用の著しい変更を伴う共用部分の変更については、区分所有者及び議決権の各4分の3以上の多数による集会の決議で決するものであるが、規約でこの区分所有者の定数を過半数まで減することができる。
- 3 敷地利用権が数人で有する所有権その他の権利である場合には、規約に別段の定めがあるときを除いて、区分所有者は、その有する専有部分とその専有部分に係る敷地利用権とを分離して処分することができない。
- 4 各共有者の共用部分の持分は、規約に別段の定めがある場合を除いて、その有する専有部分の床面積の割合によるが、この床面積は壁その他の区画の中心線で囲まれた部分の水平投影面積である。

4

【問 14】 不動産の登記に関する次の記述のうち、不動産登記法の規定によれば、正しいものはどれか。

- 1 所有権の登記の抹消は、所有権の移転の登記がある場合においても、所有権の登記名義人が単独で申請することができる。
- 2 登記の申請をする者の委任による代理人の権限は、本人の死亡によって消滅する。
- 3 法人の合併による権利の移転の登記は、登記権利者が単独で申請することができる。
- 4 信託の登記は、受託者が単独で申請することができない。

【問 15】 都市計画法に関する次の記述のうち、誤っているものはどれか。

- 1 地区計画については、都市計画に、当該地区計画の目標を定めるよう努めるものとされている。
- 2 地区計画については、都市計画に、区域の面積を定めるよう努めるものとされている。
- 3 地区整備計画においては、市街化区域と市街化調整区域との区分の決定の有無を定めることができる。
- 4 地区整備計画においては、建築物の建蔽率の最高限度を定めることができる。

3

×2

【問 16】 都市計画法に関する次の記述のうち、正しいものはどれか。ただし、許可を要する開発行為の面積については、条例による定めはないものとし、この間において「都道府県知事」とは、地方自治法に基づく指定都市、中核市及び施行時特例市にあってはその長をいうものとする。

- 1 市街化区域において、都市公園法に規定する公園施設である建築物の建築を目的とした5,000 m²の土地の区画形質の変更を行おうとする者は、あらかじめ、都道府県知事の許可を受けなければならない。
- 2 首都圏整備法に規定する既成市街地内にある市街化区域において、住宅の建築を目的とした800 m²の土地の区画形質の変更を行おうとする者は、あらかじめ、都道府県知事の許可を受けなければならない。
- 3 準都市計画区域において、商業施設の建築を目的とした2,000 m²の土地の区画形質の変更を行おうとする者は、あらかじめ、都道府県知事の許可を受けなければならない。
- 4 区域区分が定められていない都市計画区域において、土地区画整理事業の施行として行う8,000 m²の土地の区画形質の変更を行おうとする者は、あらかじめ、都道府県知事の許可を受けなければならない。

【問 17】 建築基準法に関する次の記述のうち、正しいものはどれか。

- 1 居室の内装の仕上げには、ホルムアルデヒドを発生させる建築材料を使用することが認められていない。
- 2 4階建ての共同住宅の敷地内には、避難階に設けた屋外への出口から道又は公園、広場その他の空地に通ずる幅員が2 m以上の通路を設けなければならない。
- 3 防火地域又は準防火地域内にある建築物で、外壁が防火構造であるものについては、その外壁を隣地境界線に接して設けることができる。
- 4 建築主は、3階建ての木造の共同住宅を新築する場合において、特定行政庁が、安全上、防火上及び避難上支障がないと認めるときは、検査済証の交付を受ける前においても、仮に、当該共同住宅を使用することができる。

4

【問 18】 次の記述のうち、建築基準法の規定によれば、誤っているものはどれか。

- 1 都市計画により建蔽率の限度が10分の6と定められている近隣商業地域において、準防火地域内にある耐火建築物で、街区の角にある敷地又はこれに準ずる敷地で特定行政庁が指定するもの内にある建築物については、建蔽率の限度が10分の8となる。
- 2 市町村は、集落地区計画の区域において、用途地域における用途の制限を補完し、当該区域の特性にふさわしい土地利用の増進等の目的を達成するため必要と認める場合においては、国土交通大臣の承認を得て、当該区域における用途制限を緩和することができる。
- 3 居住環境向上用途誘導地区内においては、公益上必要な一定の建築物を除き、建築物の建蔽率は、居住環境向上用途誘導地区に関する都市計画において建築物の建蔽率の最高限度が定められたときは、当該最高限度以下でなければならない。
- 4 都市計画区域内のごみ焼却場の用途に供する建築物について、特定行政庁が建築基準法第51条に規定する都市計画審議会の議を経てその敷地の位置が都市計画上支障がないと認めて許可した場合においては、都市計画においてその敷地の位置が決定しているものでなくても、新築することができる。

2

×4
【問 19】 宅地造成等規制法（以下この問において「法」という。）に関する次の記述のうち、誤っているものはどれか。なお、この問において「都道府県知事」とは、地方自治法に基づく指定都市、中核市及び施行時特例市にあってはその長をいうものとする。

- 1 宅地造成工事規制区域内において、宅地を造成するために切土をする土地の面積が 500 m^2 であって盛土を生じない場合、切土をした部分に生じる崖の高さが1.5mであれば、都道府県知事の法第8条第1項本文の工事の許可は不要である。
- 2 都道府県知事は、法第8条第1項本文の工事の許可の申請があった場合においては、遅滞なく、文書をもって許可又は不許可の処分を申請者に通知しなければならない。
- 3 都道府県知事は、一定の場合には都道府県（地方自治法に基づく指定都市、中核市又は施行時特例市の区域にあっては、それぞれ指定都市、中核市又は施行時特例市）の規則で、宅地造成工事規制区域内において行われる宅地造成に関する工事の技術的基準を強化し、又は付加することができる。
- 4 都道府県知事は、関係市町村長の意見を聴いて、宅地造成工事規制区域内で、宅地造成に伴う災害で相当数の居住者その他の者に危害を生ずるものの発生のおそれが大きい一団の造成宅地の区域であって一定の基準に該当するものを、造成宅地防災区域として指定することができる。

2

Q
【問 20】 土地区画整理法に関する次の記述のうち、誤っているものはどれか。

- 1 換地計画において参加組合員に対して与えるべきものとして定められた宅地は、換地処分の公告があった日の翌日において、当該宅地の所有者となるべきものとして換地計画において定められた参加組合員が取得する。
- 2 換地計画において換地を定める場合においては、換地及び従前の宅地の位置、地積、土質、水利、利用状況、環境等が照応するように定めなければならない。
- 3 土地区画整理組合の設立の認可の公告があった日後、換地処分の公告がある日までは、施行地区内において、土地区画整理事業の施行の障害となるおそれがある土地の形質の変更を行おうとする者は、当該土地区画整理組合の許可を受けなければならない。
- 4 土地区画整理組合の組合員は、組合員の3分の1以上の連署をもって、その代表者から理由を記載した書面を土地区画整理組合に提出して、理事又は監事の解任を請求することができる。

Q
【問 21】 農地に関する次の記述のうち、農地法（以下この問において「法」という。）の規定によれば、誤っているものはどれか。

- 1 遺産分割によって農地を取得する場合には、法第3条第1項の許可は不要であるが、農業委員会への届出が必要である。
- 2 法第3条第1項の許可を受けなければならない場合の売買については、その許可を受けずに農地の売買契約を締結しても、所有権移転の効力は生じない。
- 3 砂利採取法第16条の認可を受けて市街化調整区域内の農地を砂利採取のために一時的に借り受ける場合には、法第5条第1項の許可は不要である。
- 4 都道府県が市街化調整区域内の農地を取得して病院を建設する場合には、都道府県知事（法第4条第1項に規定する指定市町村の区域内にあってはその長）との協議が成立すれば、法第5条第1項の許可があったものとみなされる。

×4

【問 22】 国土利用計画法第23条の届出（以下この問において「事後届出」という。）に関する次の記述のうち、正しいものはどれか。なお、この問において「都道府県知事」とは、地方自治法に基づく指定都市にあってはその長をいうものとする。

- 1 土地売買等の契約を締結した場合には、当事者のうち当該契約による権利取得者は、その契約を締結した日の翌日から起算して3週間以内に、事後届出を行わなければならない。
- 2 都道府県知事は、事後届出をした者に対し、その届出に係る土地に関する権利の移転若しくは設定後における土地の利用目的又は土地に関する権利の移転若しくは設定の対価の額について、当該土地を含む周辺の地域の適正かつ合理的な土地利用を図るために必要な助言をすることができる。
- 3 事後届出が必要な土地売買等の契約を締結したにもかかわらず、所定の期間内に当該届出をしなかった者は、都道府県知事からの勧告を受けるが、罰則の適用はない。
- 4 宅地建物取引業者Aが所有する準都市計画区域内の20,000m²の土地について、10,000m²をB市に、10,000m²を宅地建物取引業者Cに売却する契約を締結した場合、B市は事後届出を行う必要はないが、Cは一定の場合を除き事後届出を行う必要がある。

3
×1

【問 23】 所得税法に関する次の記述のうち、正しいものはどれか。

- 1 譲渡所得の特別控除額（50万円）は、譲渡益のうち、まず、資産の取得の日以後5年以内にされた譲渡による所得で政令で定めるものに該当しないものに係る部分の金額から控除し、なお控除しきれない特別控除額がある場合には、それ以外の譲渡による所得に係る部分の金額から控除する。
- 2 譲渡所得の金額の計算上、資産の譲渡に係る総収入金額から控除する資産の取得費には、その資産の取得時に支出した購入代金や購入手数料の金額は含まれるが、その資産の取得後に支出した設備費及び改良費の額は含まれない。
- 3 建物の全部の所有を目的とする土地の賃借権の設定の対価として支払を受ける権利金の金額が、その土地の価額の10分の5に相当する金額を超えるときは、不動産所得として課税される。
- 4 居住者がその取得の日以後5年以内に固定資産を譲渡した場合には、譲渡益から譲渡所得の特別控除額（50万円）を控除した後の譲渡所得の金額の2分の1に相当する金額が課税標準とされる。

2

x1

【問 24】 不動産取得税に関する次の記述のうち、正しいものはどれか。

- 1 平成 28 年に新築された既存住宅（床面積 210 m²）を個人が自己の居住のために取得した場合、当該取得に係る不動産取得税の課税標準の算定については、当該住宅の価格から 1,200 万円が控除される。
- 2 家屋が新築された日から 3 年を経過して、なお、当該家屋について最初の使用又は譲渡が行われない場合においては、当該家屋が新築された日から 3 年を経過した日において家屋の取得がなされたものとみなし、当該家屋の所有者を取得者とみなして、これに対して不動産取得税を課する。
- 3 不動産取得税は、不動産の取得があった日の翌日から起算して 2 か月以内に当該不動産の所在する都道府県に申告納付しなければならない。
- 4 不動産取得税は、不動産を取得するという比較的担税力のある機会に相当の税負担を求めらる観点から創設されたものであるが、不動産取得税の税率は 4% を超えることができない。

4

x3

【問 25】 不動産の鑑定評価に関する次の記述のうち、不動産鑑定評価基準によれば、誤っているものはどれか。

- 1 不動産鑑定士の通常の調査の範囲では、対象不動産の価格への影響の程度を判断するための事実の確認が困難な特定の価格形成要因がある場合、鑑定評価書の利用者の利益を害するおそれがないと判断されるときに限り、当該価格形成要因について調査の範囲に係る条件を設定することができる。
- 2 対象不動産を価格時点において再調達することを想定した場合において必要とされる適正な原価の総額を再調達原価というが、建設資材、工法等の変遷により、対象不動産の再調達原価を求めることが困難な場合には、対象不動産と同等の有用性を持つものに置き換えて求めた原価を再調達原価とみなすものとする。
- 3 取引事例等に係る取引が特殊な事情を含み、これが当該取引事例等に係る価格等に影響を及ぼしている場合に、適切に補正することを時点修正という。
- 4 不動産の鑑定評価によって求める賃料は、一般的には正常賃料又は継続賃料であるが、鑑定評価の依頼目的に対応した条件により限定賃料を求めることができる場合がある。

○
【問 26】 宅地建物取引業者Aが、自ら売主として宅地建物取引業者ではない買主Bに対し建物の売却を行う場合における宅地建物取引業法第35条に規定する重要事項の説明に関する次の記述のうち、正しいものはどれか。

- 1 Aは、Bに対し、専任の宅地建物取引士をして説明をさせなければならない。
- 2 Aは、Bに対し、代金以外に授受される金銭の額だけでなく、当該金銭の授受の目的についても説明しなければならない。
- 3 Aは、Bに対し、建物の上に存する登記された権利の種類及び内容だけでなく、移転登記の申請の時期についても説明しなければならない。
- 4 Aは、Bに対し、売買の対象となる建物の引渡しの時期について説明しなければならない。

2

○
【問 27】 宅地建物取引業の免許（以下この問において「免許」という。）に関する次の記述のうち、宅地建物取引業法の規定によれば、正しいものはどれか。

- 1 個人Aが不正の手段により免許を受けた後、免許を取り消され、その取消の日から5年を経過した場合、その間に免許を受けることができない事由に該当することがなかったとしても、Aは再び免許を受けることはできない。
- 2 免許を受けようとする個人Bが破産手続開始の決定を受けた後に復権を得た場合においても、Bは免許を受けることができない。
- 3 免許を受けようとするC社の役員Dが刑法第211条（業務上過失致死傷等）の罪により地方裁判所で懲役1年の判決を言い渡された場合、当該判決に対してDが高等裁判所に控訴し裁判が係属中であっても、C社は免許を受けることができない。
- 4 免許を受けようとするE社の役員に、宅地建物取引業法の規定に違反したことにより罰金の刑に処せられた者がいる場合、その刑の執行が終わって5年を経過しなければ、E社は免許を受けることができない。

4

×F

【問 28】 宅地建物取引士の登録（以下この問において「登録」という。）に関する次の記述のうち、宅地建物取引業法の規定によれば、正しいものはどれか。

- 1 宅地建物取引士A（甲県知事登録）が、乙県に所在する宅地建物取引業者の事務所の業務に従事することとなったときは、Aは甲県知事を経由せずに、直接乙県知事に対して登録の移転を申請しなければならない。
- 2 甲県知事の登録を受けているが宅地建物取引士証の交付を受けていないBが、宅地建物取引士としてすべき事務を行った場合、情状のいかんを問わず、甲県知事はBの登録を削除しなければならない。
- 3 宅地建物取引士C（甲県知事登録）は、宅地建物取引業者D社を退職し、宅地建物取引業者E社に再就職したが、CはD社及びE社のいずれにおいても専任の宅地建物取引士ではないので、勤務先の変更の登録を申請しなくてもよい。
- 4 甲県で宅地建物取引士資格試験を受け、合格したFは、乙県に転勤することとなったとしても、登録は甲県知事に申請しなければならない。

3

×F

【問 29】 次の記述のうち、宅地建物取引業法の規定によれば、正しいものはどれか。

- 1 宅地建物取引業者は、その事務所ごとに従業者の氏名、従業者証明書番号その他国土交通省令で定める事項を記載した従業者名簿を備えなければならないが、当該名簿を最終の記載をした日から5年間保存しなければならない。
- 2 宅地建物取引業者は、一団の宅地の分譲を行う案内所において宅地の売買の契約の締結を行わない場合、その案内所には国土交通省令で定める標識を掲示しなくてもよい。
- 3 宅地建物取引業者が、一団の宅地の分譲を行う案内所において宅地の売買の契約の締結を行う場合、その案内所には国土交通大臣が定めた報酬の額を掲示しなければならない。
- 4 宅地建物取引業者は、事務所以外の継続的に業務を行うことができる施設を有する場所であっても、契約（予約を含む。）を締結せず、かつ、その申込みを受けない場合、当該場所に専任の宅地建物取引士を置く必要はない。

3

○
【問 30】 宅地建物取引業者がその業務に関して行う広告に関する次の記述のうち、宅地建物取引業法の規定によれば、正しいものはいくつあるか。

ア 宅地の販売広告において、宅地に対する将来の利用の制限について、著しく事実と相違する表示をしてはならない。

イ 建物の貸借の媒介において広告を行った場合には、依頼者の依頼の有無にかかわらず、報酬の限度額を超えて、当該広告の料金を相当する額を受領することができる。

ウ 複数の区画がある宅地の売買について、数回に分けて広告するときは、最初に行う広告に取引態様の別を明示すれば足り、それ以降は明示する必要はない。

エ 賃貸マンションの貸借に係る媒介の依頼を受け、媒介契約を締結した場合であっても、当該賃貸マンションが建築確認申請中であるときは広告をすることができない。

1 一つ

2 二つ

3 三つ

4 四つ

2

○
【問 31】 宅地建物取引業保証協会（以下この問において「保証協会」という。）に関する次の記述のうち、宅地建物取引業法の規定によれば、誤っているものはどれか。

1 保証協会は、当該保証協会の社員である宅地建物取引業者が社員となる前に当該宅地建物取引業者と宅地建物取引業に関し取引をした者の有するその取引により生じた債権に関し弁済業務保証金の還付が行われることにより弁済業務の円滑な運営に支障を生ずるおそれがあると認めるときは、当該社員に対し、担保の提供を求めることができる。

2 保証協会の社員である宅地建物取引業者は、取引の相手方から宅地建物取引業に係る取引に関する苦情について解決の申出が当該保証協会になされ、その解決のために当該保証協会から資料の提出の求めがあったときは、正当な理由がある場合でなければ、これを拒んではならない。

3 保証協会の社員である宅地建物取引業者は、当該宅地建物取引業者と宅地建物取引業に関し取引をした者の有するその取引により生じた債権に関し弁済業務保証金の還付がなされたときは、その日から2週間以内に還付充当金を保証協会に納付しなければならない。

4 還付充当金の未納により保証協会の社員がその地位を失ったときは、保証協会は、直ちにその旨を当該社員であった宅地建物取引業者が免許を受けた国土交通大臣又は都道府県知事に報告しなければならない。

3

X1
【問 32】 宅地建物取引業の免許（以下この問において「免許」という。）に関する次の記述のうち、宅地建物取引業法の規定によれば、正しいものはどれか。なお、いずれの場合も、その行為を業として営むものとする。

- 1 A社が、都市計画法に規定する用途地域外の土地であって、ソーラーパネルを設置するための土地の売買を媒介しようとする場合、免許は必要ない。
- 2 B社が、土地区画整理事業の換地処分により取得した換地を住宅用地として分譲しようとする場合、免許は必要ない。
- 3 農業協同組合Cが、組合員が所有する宅地の売却の代理をする場合、免許は必要ない。
- 4 D社が、地方公共団体が定住促進策としてその所有する土地について住宅を建築しようとする個人に売却する取引の媒介をしようとする場合、免許は必要ない。

不償付物

4

【問 33】 宅地建物取引業法第35条に規定する重要事項の説明における水防法施行規則第11条第1号の規定により市町村（特別区を含む。以下この問において同じ。）の長が提供する図面（以下この問において「水害ハザードマップ」という。）に関する次の記述のうち、正しいものはどれか。なお、説明の相手方は宅地建物取引業者ではないものとする。

- 1 宅地建物取引業者は、市町村が、取引の対象となる宅地又は建物の位置を含む水害ハザードマップを作成せず、又は印刷物の配布若しくはホームページ等への掲載等をしていないことを確認できた場合は、重要事項説明書にその旨記載し、重要事項説明の際に提示すべき水害ハザードマップが存在しない旨を説明すればよい。
- 2 宅地建物取引業者は、市町村が取引の対象となる宅地又は建物の位置を含む「洪水」、「雨水出水（内水）」、「高潮」の水害ハザードマップを作成している場合、重要事項説明の際にいずれか1種類の水害ハザードマップを提示すればよい。
- 3 宅地建物取引業者は、市町村が取引の対象となる宅地又は建物の位置を含む水害ハザードマップを作成している場合、売買又は交換の媒介のときは重要事項説明の際に水害ハザードマップを提示しなければならないが、貸借の媒介のときはその必要はない。
- 4 宅地建物取引業者は、市町村が取引の対象となる宅地又は建物の位置を含む水害ハザードマップを作成している場合、重要事項説明書に水害ハザードマップを添付すれば足りる。

【問 34】 宅地建物取引業法の規定に基づく営業保証金に関する次の記述のうち、正しいものはどれか。

- 1 国土交通大臣から免許を受けた宅地建物取引業者が、営業保証金を主たる事務所のもよりの供託所に供託した場合、当該供託所から国土交通大臣にその旨が通知されるため、当該宅地建物取引業者は国土交通大臣にその旨を届け出る必要はない。
- 2 宅地建物取引業者と宅地建物取引業に関し取引をした者は、その取引により生じた債権に関し、当該宅地建物取引業者が供託した営業保証金について、その債権の弁済を受ける権利を有するが、取引をした者が宅地建物取引業者に該当する場合は、その権利を有しない。
- 3 営業保証金は、金銭による供託のほか、有価証券をもって供託することができるが、金銭と有価証券とを併用して供託することはできない。
- 4 有価証券を営業保証金に充てる場合における当該有価証券の価額は、国債証券の場合はその額面金額の100分の90、地方債証券の場合はその額面金額の100分の80である。

2

【問 35】 宅地建物取引士の登録（以下この間において「登録」という。）及び宅地建物取引士証に関する次の記述のうち、正しいものはいくつあるか。

ア 宅地建物取引士（甲県知事登録）が事務禁止処分を受けた場合、宅地建物取引士証を甲県知事に速やかに提出しなければならないが、速やかに提出しなかったときは10万円以下の過料に処せられることがある。

イ 宅地建物取引士（甲県知事登録）が宅地建物取引士としての事務禁止処分を受け、その禁止の期間中に本人の申請により登録が消除された場合は、その者が乙県で宅地建物取引士資格試験に合格したとしても、当該期間が満了していないときは、乙県知事の登録を受けることができない。

ウ 宅地建物取引士（甲県知事登録）が甲県から乙県に住所を変更したときは、乙県知事に対し、登録の移転の申請をすることができる。

エ 宅地建物取引士（甲県知事登録）が本籍を変更した場合、遅滞なく、甲県知事に変更の登録を申請しなければならない。

- 1 一つ
- 2 二つ
- 3 三つ
- 4 四つ

3

0

【問 36】 宅地建物取引業者が行う宅地建物取引業法第35条に規定する重要事項の説明に関する次の記述のうち、同法の規定に少なくとも説明しなければならない事項として掲げられていないものはどれか。

- 1 建物の貸借の媒介を行う場合における、「都市計画法第29条第1項の規定に基づく制限」
- 2 建物の貸借の媒介を行う場合における、「当該建物について、石綿の使用の有無の調査の結果が記録されているときは、その内容」
- 3 建物の貸借の媒介を行う場合における、「台所、浴室、便所その他の当該建物の設備の整備の状況」
- 4 宅地の貸借の媒介を行う場合における、「敷金その他いかなる名義をもって授受されるかを問わず、契約終了時において精算することとされている金銭の精算に関する事項」

1/3

【問 37】 宅地建物取引業法第35条の規定に基づく重要事項の説明及び同法第37条の規定により交付すべき書面（以下この問において「37条書面」という。）に関する次の記述のうち、正しいものはどれか。

- 1 宅地建物取引業者は、媒介により区分所有建物の賃貸借契約を成立させた場合、専有部分の用途その他の利用の制限に関する規約においてペットの飼育が禁止されているときは、その旨を重要事項説明書に記載して説明し、37条書面にも記載しなければならない。
- 2 宅地建物取引業者は、自ら売主となる土地付建物の売買契約において、宅地建物取引業者ではない買主から保全措置を講ずる必要のない金額の手付金を受領する場合、手付金の保全措置を講じないことを、重要事項説明書に記載して説明し、37条書面にも記載しなければならない。
- 3 宅地建物取引業者は、媒介により建物の敷地に供せられる土地の売買契約を成立させた場合において、当該売買代金以外の金銭の授受に関する定めがあるときは、その額並びに当該金銭の授受の時期及び目的を37条書面に記載しなければならない。
- 4 宅地建物取引業者は、自ら売主となる土地付建物の売買契約及び自ら貸主となる土地付建物の賃貸借契約のいずれにおいても、37条書面を作成し、その取引の相手方に交付しなければならない。

【問 38】 宅地建物取引業者Aが、宅地建物取引業者BからB所有の建物の売却を依頼され、Bと一般媒介契約（以下この間において「本件契約」という。）を締結した場合に関する次の記述のうち、宅地建物取引業法の規定に違反しないものはいくつあるか。

ア 本件契約を締結する際に、Bから有効期間を6か月としたい旨の申出があったが、AとBが協議して、有効期間を3か月とした。

イ 当該物件に係る買受けの申込みはなかったが、AはBに対し本件契約に係る業務の処理状況の報告を口頭により14日に1回以上の頻度で行った。

ウ Aは本件契約を締結した後、所定の事項を遅滞なく指定流通機構に登録したが、その登録を証する書面を、登録してから14日後にBに交付した。


エ 本件契約締結後、1年を経過しても当該物件を売却できなかったため、Bは売却をあきらめ、当該物件を賃貸することにした。そこでBはAと当該物件の貸借に係る一般媒介契約を締結したが、当該契約の有効期間を定めなかった。

1 一つ

2 二つ

3 三つ

4 四つ



【問 39】 宅地建物取引業者Aが、自ら売主として、宅地建物取引業者Bの媒介により、宅地建物取引業者ではないCを買主とするマンションの売買契約を締結した場合における宅地建物取引業法第37条の2の規定に基づくいわゆるクーリング・オフについて告げるときに交付すべき書面（以下この間において「告知書面」という。）に関する次の記述のうち、正しいものはどれか。

1 告知書面には、クーリング・オフによる買受けの申込みの撤回又は売買契約の解除があったときは、Aは、その買受けの申込みの撤回又は売買契約の解除に伴う損害賠償又は違約金の支払を請求することができないことを記載しなければならない。

2 告知書面には、クーリング・オフについて告げられた日から起算して8日を経過するまでの間は、Cが当該マンションの引渡しを受け又は代金の全部を支払った場合を除き、書面によりクーリング・オフによる買受けの申込みの撤回又は売買契約の解除を行うことができることを記載しなければならない。

3 告知書面には、Cがクーリング・オフによる売買契約の解除をするときは、その旨を記載した書面がAに到達した時点で、その効力が発生することを記載しなければならない。

4 告知書面には、A及びBの商号又は名称及び住所並びに免許証番号を記載しなければならない。

【問 40】 次の記述のうち、宅地建物取引業法の規定によれば、正しいものはどれか。

- 1 宅地建物取引業者は、その業務に関する帳簿を備え、取引のあったつど、その年月日、その取引に係る宅地又は建物の所在及び面積その他国土交通省令で定める事項を記載しなければならないが、支店及び案内所には備え付ける必要はない。
- 2 成年である宅地建物取引業者は、宅地建物取引業の業務に関し行った行為について、行為能力の制限を理由に取り消すことができる。
- 3 宅地建物取引業者は、一団の宅地建物の分譲をする場合における当該宅地又は建物の所在する場所に国土交通省令で定める標識を掲示しなければならない。
- 4 宅地建物取引業者は、業務上取り扱ったことについて知り得た秘密に関し、税務署の職員から質問検査権の規定に基づき質問を受けたときであっても、回答してはならない。

3

【問 41】 宅地建物取引業者Aが行う業務に関する次の記述のうち、宅地建物取引業法の規定によれば、正しいものはいくつあるか。なお、この問において「37条書面」とは、同法第37条の規定により交付すべき書面をいうものとする。

- ア Aが自ら売主として建物を売却する場合、宅地建物取引業者Bに当該売却の媒介を依頼したときは、Bは宅地建物取引士をして37条書面に記名押印させなければならず、Aも宅地建物取引士をして37条書面に記名押印させなければならない。
- イ Aが自ら売主として建物を売却する場合、当該売買契約に際し、買主から支払われる手付金の額が売買代金の5%未満であるときは、当該手付金の額の記載があれば授受の時期については37条書面に記載しなくてもよい。
- ウ Aが売主を代理して建物を売却する場合、買主が宅地建物取引業者であるときは、37条書面を交付しなくてもよい。
- エ Aが売主を代理して抵当権が設定されている建物を売却する場合、当該抵当権の内容について37条書面に記載しなければならない。

- 1 一つ
- 2 二つ
- 3 三つ
- 4 四つ

0

2

【問 44】 宅地建物取引業者 A (消費税課税事業者) が受け取ることができる報酬額についての次の記述のうち、宅地建物取引業法の規定によれば、正しいものはどれか。

1 居住の用に供する建物 (1 か月の借賃 20 万円、消費税等相当額を含まない。) の貸借であって 100 万円の権利金の授受があるものの媒介をする場合、依頼者双方から受領する報酬の合計額は 11 万円を超えてはならない。

2 宅地 (代金 1,000 万円、消費税等相当額を含まない。) の売買について、売主から代理の依頼を受け、買主から媒介の依頼を受け、売買契約を成立させて買主から 303,000 円の報酬を受領する場合、売主からは 489,000 円を上限として報酬を受領することができる。

3 宅地 (代金 300 万円、消費税等相当額を含まない。) の売買の媒介について、通常の媒介と比較して現地調査等の費用が 6 万円 (消費税等相当額を含まない。) 多く要した場合、依頼者双方から合計で 44 万円を上限として報酬を受領することができる。

4 店舗兼住宅 (1 か月の借賃 20 万円、消費税等相当額を含まない。) の貸借の媒介をする場合、依頼者の一方から受領する報酬は 11 万円を超えてはならない。

Handwritten calculations:

$$\begin{array}{r} 396 \\ \times 3 \\ \hline 1188 \end{array}$$

$$\begin{array}{r} 1000 \\ \times 36 \\ \hline 36000 \end{array}$$

$$\begin{array}{r} 36 \\ \times 11 \\ \hline 396 \end{array}$$

$$\begin{array}{r} 36 \\ \times 11 \\ \hline 396 \end{array}$$

$$\begin{array}{r} 489 \\ - 396 \\ \hline 93 \end{array}$$

$$\begin{array}{r} 8 \\ 1592 \\ + 396 \\ \hline 1988 \end{array}$$

【問 45】 宅地建物取引業者 A が、自ら売主として宅地建物取引業者ではない買主 B に新築住宅を販売する場合における次の記述のうち、特定住宅瑕疵担保責任の履行の確保等に関する法律の規定によれば、正しいものはどれか。

1 B が建設業者である場合、A は、B に引き渡した新築住宅について、住宅販売瑕疵担保保証金の供託又は住宅販売瑕疵担保責任保険契約の締結を行う義務を負わない。

2 A が住宅販売瑕疵担保責任保険契約を締結する場合、当該契約は、B が A から当該新築住宅の引渡しを受けた時から 2 年以上の期間にわたって有効なものでなければならない。

3 A が住宅販売瑕疵担保責任保険契約を締結した場合、A 及び B は、指定住宅紛争処理機関に特別住宅紛争処理の申請をすることにより、当該新築住宅の瑕疵に関する A と B との間の紛争について、あつせん、調停又は仲裁を受けることができる。

4 A B 間の新築住宅の売買契約において、当該新築住宅の構造耐力上主要な部分に瑕疵があつても A が瑕疵担保責任を負わない旨の特約があつた場合、住宅販売瑕疵担保保証金の供託又は住宅販売瑕疵担保責任保険契約の締結を行う義務はない。

2

71
【問 46】 独立行政法人住宅金融支援機構（以下この間において「機構」という。）に関する次の記述のうち、誤っているものはどれか。

- 1 機構は、証券化支援事業（買取型）において、賃貸住宅の購入に必要な資金の貸付けに係る金融機関の貸付債権を譲受けの対象としている。
- 2 機構は、市街地の土地の合理的な利用に寄与する一定の建築物の建設に必要な資金の貸付けを業務として行っている。
- 3 機構は、証券化支援事業（買取型）において、省エネルギー性に優れた住宅を取得する場合について、貸付金の利率を一定期間引き下げる制度を設けている。
- 4 機構は、経済事情の変動に伴い、貸付けを受けた者の住宅ローンの元金金の支払が著しく困難になった場合に、償還期間の延長等の貸付条件の変更を行っている。

A

【問 47】 宅地建物取引業者が行う広告に関する次の記述のうち、不当景品類及び不当表示防止法（不動産の表示に関する公正競争規約を含む。）の規定によれば、正しいものはどれか。

- 1 住宅の居室の広さを畳数で表示する場合には、畳1枚当たりの広さにかかわらず、実際に当該居室に敷かれている畳の数を表示しなければならない。
- 2 団地（一団の宅地又は建物をいう。）と駅との間の距離は、駅から最も近い当該団地内の地点を起点又は着点として算出した数値を表示しなければならない。当該団地を数区に区分して取引するときは各区分ごとに距離を算出して表示しなければならない。
- 3 新築分譲マンションを完成予想図により表示する場合、完成予想図である旨を表示すれば、緑豊かな環境であることを訴求するために周囲に存在しない公園等を表示することができる。
- 4 新築分譲住宅の販売に当たって行う二重価格表示は、実際に過去において販売価格として公表していた価格を比較対照価格として用いて行うのであれば、値下げの時期から1年以内の期間は表示することができる。

A

0
【問 48】 次の記述のうち、正しいものはどれか。

- 1 建築着工統計（令和3年1月公表）によれば、令和2年1月から令和2年12月までの新設住宅着工戸数は約81.5万戸となり、4年ぶりに増加に転じた。
- 2 令和3年版土地白書（令和3年6月公表）によれば、土地取引について、売買による所有権移転登記の件数でその動向を見ると、令和2年の全国の土地取引件数は約128万件となり、5年連続の増加となっている。
- 3 令和3年地価公示（令和3年3月公表）によれば、令和2年1月以降の1年間の地価の変動を見ると、全国平均の用途別では、住宅地及び商業地は下落に転じたが、工業地は5年連続の上昇となっている。
- 4 年次別法人企業統計調査（令和元年度。令和2年10月公表）によれば、令和元年度における不動産業の営業利益は約5兆円を超え、前年度を上回った。

3

0
【問 49】 土地に関する次の記述のうち、最も不適当なものはどれか。

- 1 森林は、木材資源としても重要で、水源涵養、洪水防止等の大きな役割を担っている。
- 2 活動度の高い火山の火山麓では、火山活動に伴う災害にも留意する必要がある。
- 3 林相は良好でも、破碎帯や崖錐等の上の杉の植林地は、豪雨に際して崩壊することがある。
- 4 崖錐や小河川の出口で堆積物の多い所等は、土石流の危険が少ない。

4

0
【問 50】 建物の構造に関する次の記述のうち、最も不適当なものはどれか。

- 1 鉄骨構造は、主要構造の構造形式にトラス、ラーメン、アーチ等が用いられ、高層建築の骨組に適している。
- 2 鉄骨構造の床は既製気泡コンクリート板、プレキャストコンクリート板等で作られる。
- 3 鉄骨構造は、耐火被覆や鋼材の加工性の問題があり、現在は住宅、店舗等の建物には用いられていない。
- 4 鉄骨構造は、工場、体育館、倉庫等の単層で大空間の建物に利用されている。

3